

JE PREPARE L'ETOILE BLEUE

1. Ecris en chiffres

deux-cent-quatre-vingt-dix-neuf : _____
trois-cent-quatre-vingt-huit : _____
cinq-cent-soixante-et-onze : _____
cent-quatre-vingt-dix-sept : _____
six-cent-soixante-dix-sept : _____
neuf-cent-quatre-vingt-douze : _____
mille : _____ huit-cent-quatre-vingt-treize : _____
sept-cent-quatre-vingt-quatorze : _____
quatre-cent-soixante-dix : _____

3. Ordonne par ordre croissant

100 500 550 301 1000 _____ < _____ < _____ < _____ < _____
160 735 730 420 650 _____ < _____ < _____ < _____ < _____
109 909 999 990 90 _____ < _____ < _____ < _____ < _____

4. Complète les suites

350 345 340 _____ _____ _____ _____
212 222 232 _____ _____ _____ _____
765 775 785 _____ _____ _____ _____
919 909 899 _____ _____ _____ _____

5. Complète

100 pour aller à 1000 : _____ $1000 - 210 =$ _____
200 pour aller à 1000 : _____ $1000 - 405 =$ _____
300 pour aller à 1000 : _____ $1000 - 10 =$ _____
500 pour aller à 1000 : _____ $1000 - 150 =$ _____
800 pour aller à 1000 : _____ $1000 - 90 =$ _____
700 pour aller à 1000 : _____ $1000 - 360 =$ _____
600 pour aller à 1000 : _____ $1000 - 470 =$ _____
400 pour aller à 1000 : _____ $1000 - 100 =$ _____
900 pour aller à 1000 : _____ $1000 - 300 =$ _____
 $1000 - 500 =$ _____
 $1000 - 400 =$ _____
 $1000 - 600 =$ _____
 $1000 - 700 =$ _____
 $1000 - 60 =$ _____
 $1000 - 990 =$ _____

2. Ecris en lettres :

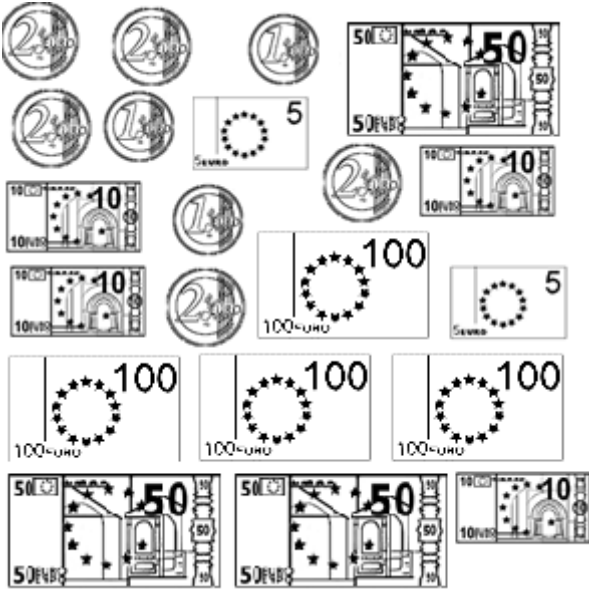
200 : _____
300 : _____
400 : _____
500 : _____
600 : _____
700 : _____
800 : _____
900 : _____
1000 : _____
101 : _____
110 : _____
111 : _____
202 : _____
220 : _____
225 : _____
303 : _____
330 : _____
334 : _____
470 : _____
586 : _____
699 : _____
990 : _____
991 : _____
999 : _____

$150 +$ _____ $= 1000$
 $350 +$ _____ $= 1000$
 $450 +$ _____ $= 1000$
 $850 +$ _____ $= 1000$
 $100 +$ _____ $= 1000$
 $300 +$ _____ $= 1000$
 $800 +$ _____ $= 1000$
 $750 +$ _____ $= 1000$
 $25 +$ _____ $= 1000$
 $75 +$ _____ $= 1000$
 $50 +$ _____ $= 1000$
 $250 +$ _____ $= 1000$
 $500 +$ _____ $= 1000$
 $550 +$ _____ $= 1000$
 $650 +$ _____ $= 1000$

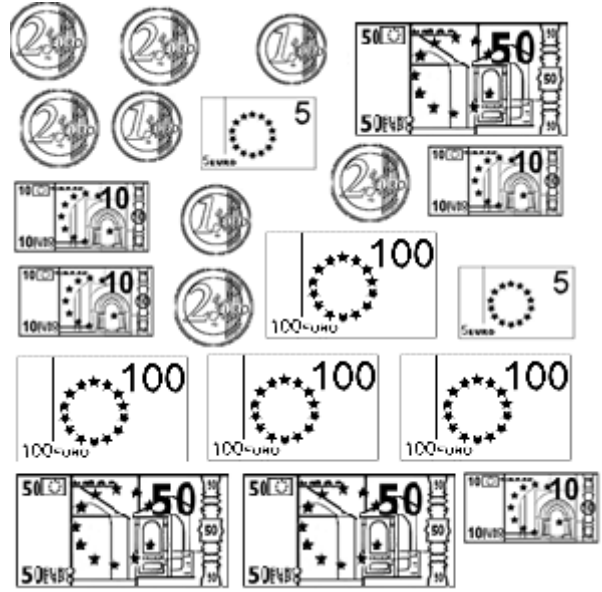
6. Barre ce qui est faux.

$1000 - 250 = 850$	$350 + 650 = 1000$	$450 + 550 = 1000$	$10 \times 10 = 1000$
$400 \times 2 = 800$	$950 - 1000 = 50$	$500 - 250 = 250$	$100 \times 10 = 1000$
$100 - 1000 = 900$	$250 \times 4 = 1000$	$1000 - 50 = 950$	$650 + 350 = 1000$
$920 + 80 = 1000$	$1000 - 100 = 900$	$1000 - 500 = 500$	$500 - 250 = 350$
$10 \times 100 = 1000$	$10 \times 10 = 100$	$942 + 58 = 1000$	$900 - 1000 = 100$

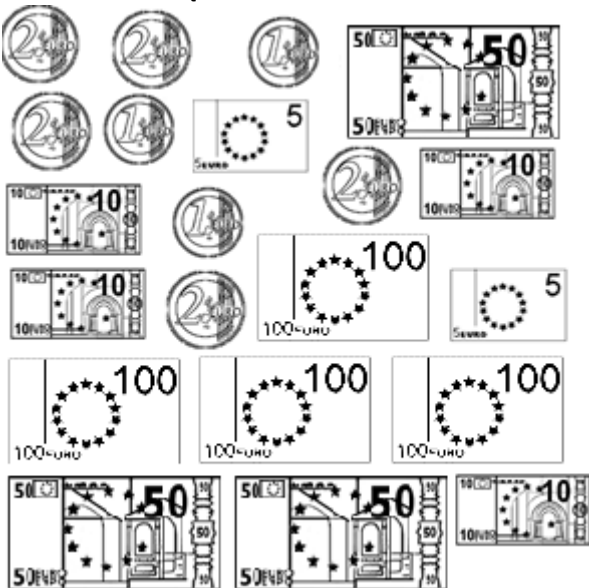
7. Entoure ce qui fait 324 €



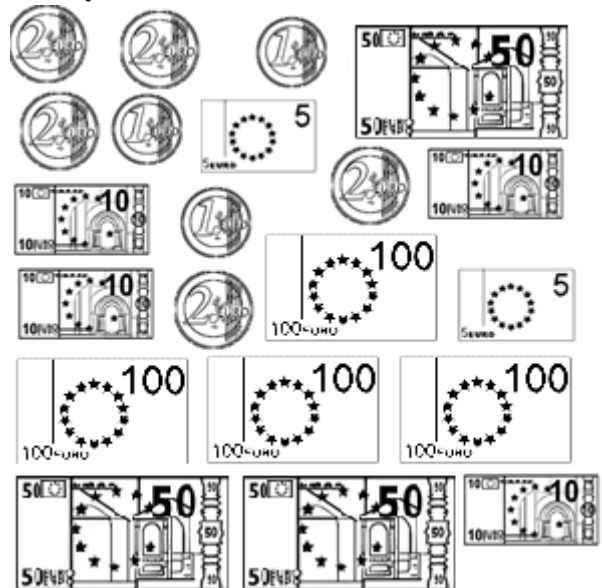
Entoure ce qui fait 567€



Entoure ce qui fait 173 €



Entoure ce qui fait 289 €



8. Complète.

100, c'est la moitié de ____.

200, c'est la moitié de ____.

300 c'est la moitié de ____.

400, c'est la moitié de ____.

500, c'est la moitié de ____.

150, c'est la moitié de ____.

250, c'est la moitié de ____.

350, c'est la moitié de ____.

450, c'est la moitié de ____.

110, c'est la moitié de ____.

120, c'est la moitié de ____.

130, c'est la moitié de ____.

240, c'est la moitié de ____.

250, c'est la moitié de ____.

260, c'est la moitié de ____.

La moitié de 1000, c'est ____.

La moitié de 150, c'est ____.

La moitié de 250, c'est ____.

La moitié de 350, c'est ____.

La moitié de 450, c'est ____.

La moitié de 550, c'est ____.

La moitié de 650, c'est ____.

La moitié de 750, c'est ____.

La moitié de 850, c'est ____.

La moitié de 950, c'est ____.

____, c'est le double de 100.

____, c'est le double de 200.

____, c'est le double de 300.

____, c'est le double de 400.

____, c'est le double de 500.

9. Complète.

5 unités + 5 centaines = ____

5 dizaines + 3 centaines = ____

17 unités + 5 centaines = ____

80 unités + 6 centaines = ____

7 centaines + 7 unités = ____

3 centaines + 40 unités = ____

1 unités + 9 centaines = ____

____ unités + 6 centaines = 645

____ unités + 2 centaines = 236

____ unités + 5 centaines = 501

____ unités + 3 centaines = 315

10 centaines = ____

10 dizaines + 1 centaine = ____

10 dizaines + ____ centaines = 200

____ dizaines + 4 centaines = 900

____ dizaines + 8 centaines = 900

20 dizaines + ____ centaines = 1000

10. Relie.

